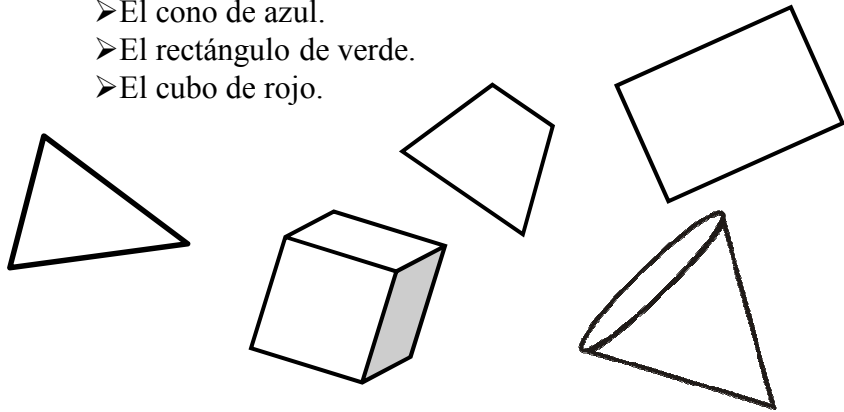
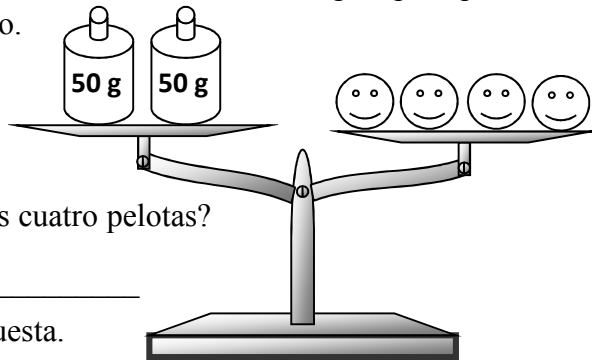


5. – Observa las siguientes figuras y colorea:

- El triángulo de amarillo.
- El cono de azul.
- El rectángulo de verde.
- El cubo de rojo.



6. – Fíjate en la balanza. Ambos lados tienen igual peso para mantener el equilibrio.



a) ¿Cuánto pesan las cuatro pelotas?

•Explica tu respuesta.

b) ¿Cuánto pesan dos pelotas? _____


•Explica tu respuesta.

c) ¿Cuánto pesa una pelota? _____

•Explica tu respuesta.

OLIMPIADA INFANTIL DE MATEMÁTICA

AÑO 2012



PRUEBA REGIONAL

SEGUNDO GRADO

DATOS PERSONALES:

NOMBRES _____


APELLIDOS _____

EDAD _____ SEXO _____

ESCUELA _____

ESTADO _____

1. – Ana tiene las siguientes fichas con números:



a) ¿Cuáles parejas de fichas suman 27? _____

➤ Ana le da las fichas con números pares a su hermana.

b) ¿Cuáles fichas le da a su hermana? _____

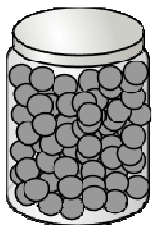
c) ¿Con cuáles fichas se queda Ana? _____

d) ¿Cuál es la suma de los números de las fichas que tiene Ana? _____

2. – Luis vende paquetes con 10 metras.

Hoy debe empaquetar 236 metras.

a) ¿Cuántos paquetes podrá armar? _____



b) ¿Cuántas metras quedan sin empaquetar? _____

3. – Amalia y sus cuatro amigas: Blanca, Carmen, Dana y Eva, están armando, con fichas, los primeros números triangulares:

Amalia	Blanca	Carmen	Dana	Eva

a) Dibuja las fichas que organizaron Dana y Eva.

b) ¿Cuántas fichas usó Dana? _____

c) ¿Cuántas fichas usó Eva? _____

d) ¿Cuántas fichas, en total, usaron las cinco amigas? _____

4. – En segundo grado hay 25 alumnos, que se sientan alrededor de tres mesas. En la mesa Amarilla no caben más niños. En la mesa **Roja** se sientan 3 niños menos que en la mesa **Amarilla**. Dibuja todos los niños en las mesas:

