

5- Con las siguientes tarjetas:




a) ¿Cuáles números distintos de tres cifras puedes armar?

b) ¿Cuál es el mayor número de tres cifras que puedes armar?

c) ¿Cuál es el menor número de tres cifras que puedes armar?

6.- La mamá de Carlos compró 2 pizzas:



a) Carlos comió la mitad de cada pizza. ¿Cuántos trozos comió en total? _____

b) La mamá de Carlos comió la mitad de lo que comió Carlos. ¿Cuántos trozos comió? _____

c) La hermana de Carlos comió la mitad de una pizza.

¿Cuántos trozos comió? _____

d) ¿Cuántos trozos de pizza sobraron? _____

OLIMPIADA INFANTIL DE MATEMÁTICA

AÑO 2012



PRUEBA REGIONAL

PRIMER GRADO

DATOS PERSONALES:

NOMBRES _____

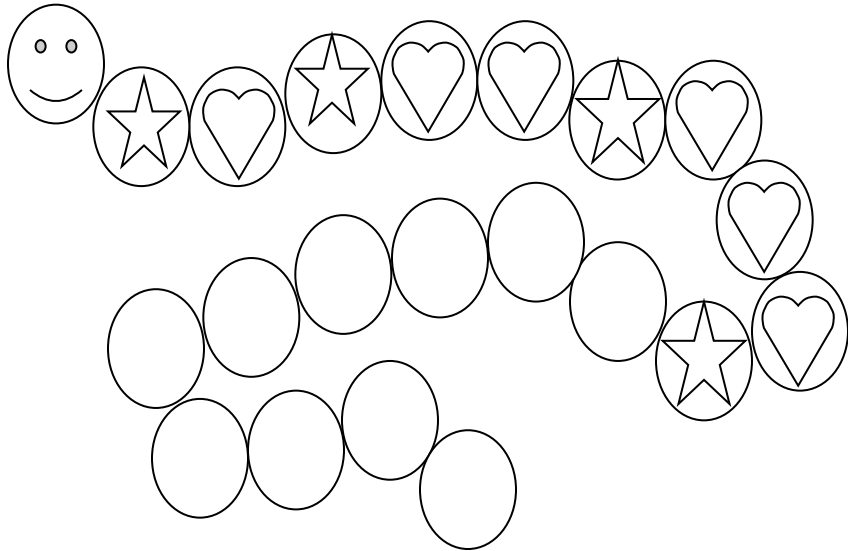
APELLIDOS _____

EDAD _____ **SEXO** _____

ESCUELA _____

ESTADO _____

1.- Luisa está dibujando un gusano. Completa el dibujo de acuerdo al patrón que sigue Luisa.



2.- Observa las siguientes fichas con números:

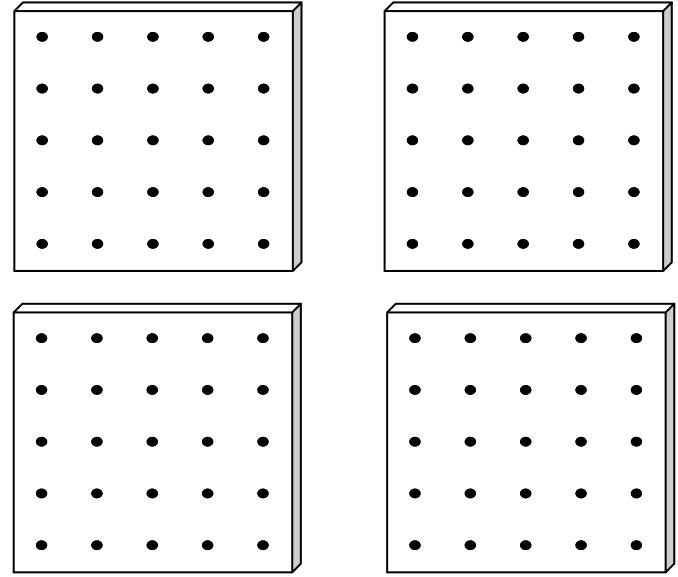


a) ¿Cuáles son menores que cuatro? _____

b) ¿Cuáles son mayores que dos y menores que siete? _____

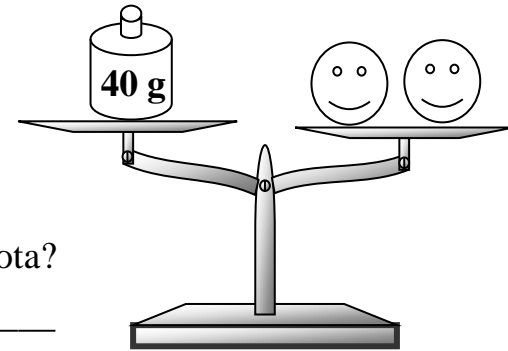
c) ¿Cuáles parejas de fichas de números suman 9? _____

3.- Dibuja un triángulo en cada geoplano. Los triángulos deben ser todos diferentes.



4.- Fíjate en la balanza. Ambos lados tienen igual peso para mantener el equilibrio.

a) ¿Cuánto pesan, en total, las dos pelotas? _____
Explica tu respuesta.



b) ¿Cuánto pesa una pelota? _____

Explica tu respuesta.