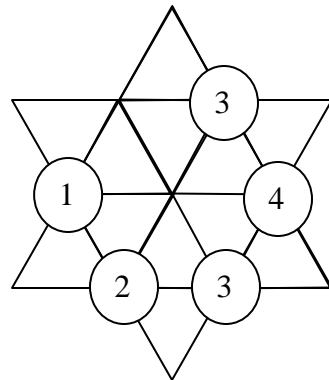
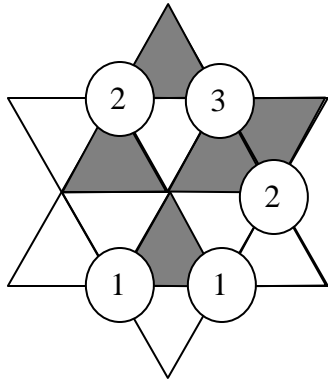


5. – Fíjate en la primera estrella: es un ejemplo. Cada número indica cuántas casillas grises están alrededor de él. Siguiendo la misma norma, pinta las casillas que deben estar coloreadas en la segunda estrella



6. – Aquí tienes, desordenados, los cumpleaños de Antonio, Beatriz, Carlos y Diana: 1 de marzo, 17 de mayo, 20 de julio y 20 de marzo. Beatriz y Carlos nacieron el mismo mes, Antonio y Carlos nacieron el mismo día de meses diferentes. ¿Quién nació el 17 de mayo?

\_\_\_\_\_

Explica tu respuesta: \_\_\_\_\_

\_\_\_\_\_

\_\_\_\_\_

\_\_\_\_\_



## PRUEBA REGIONAL SEGUNDO GRADO

**DATOS PERSONALES:**

**NOMBRES** \_\_\_\_\_

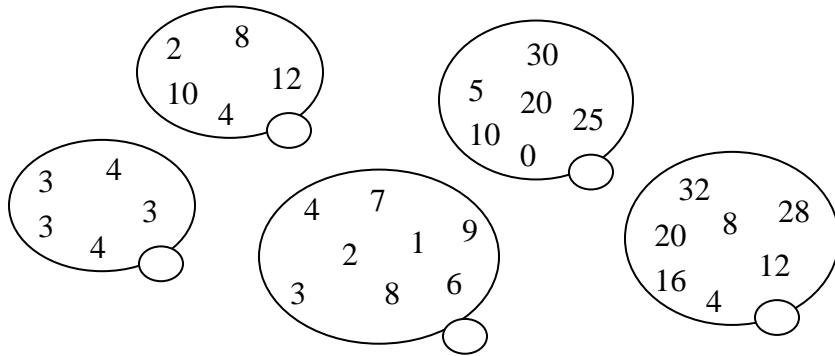
**APELLIDOS** \_\_\_\_\_

**EDAD** \_\_\_\_\_ **SEXO** \_\_\_\_\_

**ESCUELA** \_\_\_\_\_

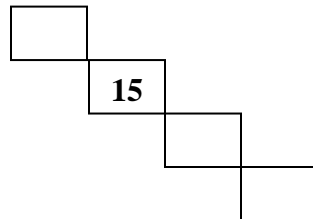
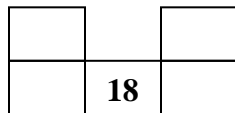
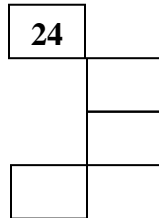
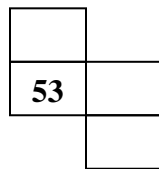

**ESTADO** \_\_\_\_\_

1.- En cada burbuja falta un número. Escríbelo dentro de la burbuja:





2. – Luisa rompe el cartel de los primeros cien números y recorta algunos trozos que le faltan números. Completa los números de los trozos:

1	2	3	4	5	6
11	12	13	14	15	
21	22	23	24		
31	32	33	34		
41	42				
51					





3. – Aquí vas a encontrar unas figuritas muy traviesas: a cada rato se cambian de lugar.

Rellena el círculo de la que consideres correcta:

a) Si  se cambió a ,

entonces , deberá cambiarse a:



b) Si  se cambió a ,

entonces , deberá cambiarse a:



4. – En segundo grado B hay 33 alumnos, que se sientan alrededor de tres mesas. En la mesa C se sientan 2 niños menos que en la mesa A. Coloca todos los niños en las mesas:

