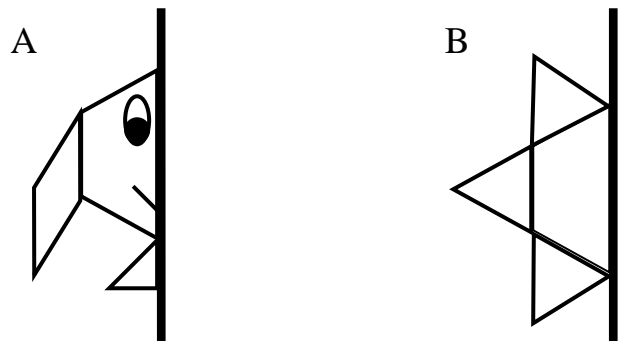
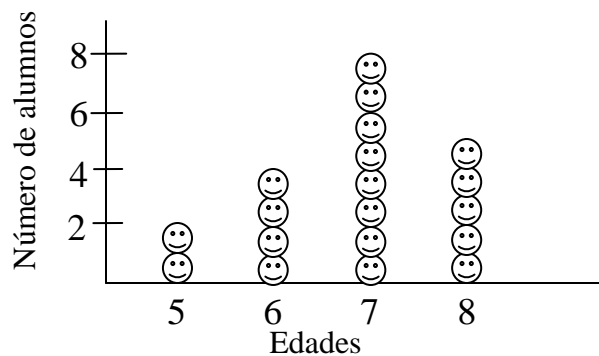


5. – La línea gruesa representa un espejo. Completa la imagen simétrica de la figura de la izquierda. Luego pinta con igual color las partes iguales



6. – El gráfico muestra las edades de un grupo de alumnos:



- a) ¿Cuántos alumnos hay de 6 años? _____
- b) ¿Cuántos de 7 años? _____
- c) ¿Cuántos de 8 años? _____
- d) ¿Cuántos con menos de 7 años? _____



PRUEBA PRELIMINAR PRIMER GRADO

DATOS PERSONALES:

NOMBRES _____

APELLIDOS _____

EDAD _____ **SECCIÓN** _____

ESCUELA _____

ESTADO _____

1. – Colorea las manzanas:

- La manzana roja no tiene hoja
- La manzana amarilla tiene la hoja hacia tu derecha
- La manzana verde tiene la hoja hacia tu izquierda



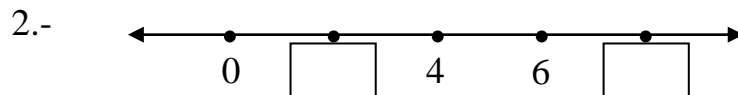
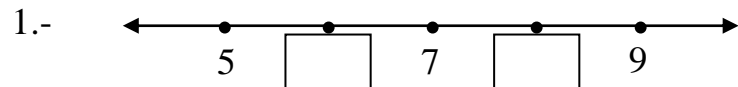
2. –

a) Al contar de tres en tres, ¿qué sigue después de 15? _____

b) Al contar de cinco en cinco, ¿qué viene después de 35? _____

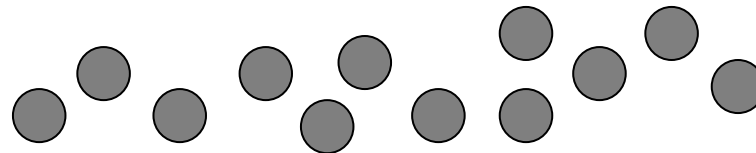
c) Escribe en letras el número que está antes de dieciocho: _____

d) En cada caso, escribe el número desconocido en los recuadros:



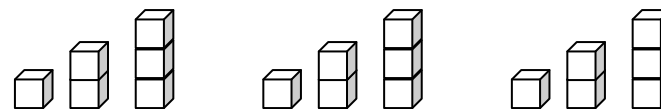
3. – Cuenta y agrupa los círculos:

a)



_____ decena + _____ unidades = _____ círculos

b) Cuenta y agrupa los cubos:



_____ decena + _____ unidades = _____ cubos

4. – Escribe en cada recuadro en blanco el número mayor. El número ganador estará en el recuadro gris.

Observa el ejemplo:

