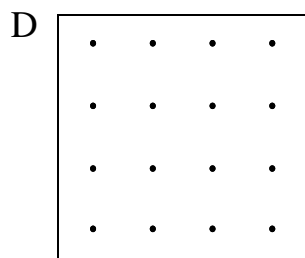
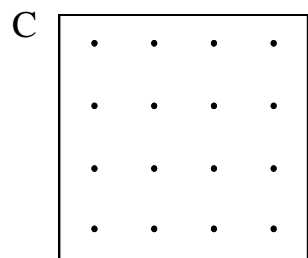
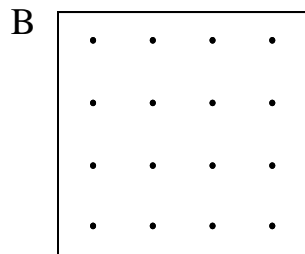
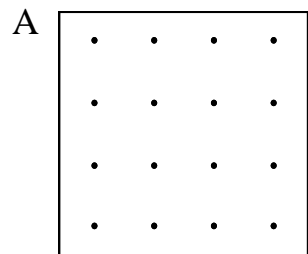


5. – Dibuja un triángulo en cada geoplano, de diferentes formas. Los vértices de los triángulos deben ser puntos del geoplano.



6. – Isabel disfruta dibujando. Ella hace un dibujo el lunes y cada día hace un dibujo más de los que hace el día anterior. ¿Cuántos dibujos hace de lunes a viernes? \_\_\_\_\_

Explica:

**OLIMPIADA RECREATIVA DE MATEMÁTICA**  
**AÑO 2010**



**PRUEBA PRELIMINAR**  
**SEGUNDO GRADO**

**DATOS PERSONALES:**

**NOMBRES** \_\_\_\_\_

**APELLIDOS** \_\_\_\_\_

**EDAD** \_\_\_\_\_ **SECCIÓN** \_\_\_\_\_

**ESCUELA** \_\_\_\_\_

**ESTADO** \_\_\_\_\_

1. - Utiliza sumas, restas y multiplicación (al menos dos de ellas al mismo tiempo) para escribir de ocho formas diferentes el número 7.

- |          |          |
|----------|----------|
| 1. _____ | 2. _____ |
| 3. _____ | 4. _____ |
| 5. _____ | 6. _____ |
| 7. _____ | 8. _____ |

2. -

A) María hace 12 galletas y las pinta siguiendo el patrón:  
verde, azul, rojo, amarillo, verde,...

¿Qué color tiene la octava galleta?

Explica con un dibujo:

B) A Inés le gusta agrupar globos siguiendo un patrón: el primer grupo tiene 6 globos, el segundo tiene 11 globos, el tercero tiene 9 globos, el cuarto tiene 14 y así sigue.

¿Cuántos globos tiene el quinto grupo? \_\_\_\_\_

Explica:

3. - Hay una venta especial de donas: la primera cuesta Bs. 2 y las demás cuestan cada una la mitad de la primera. María compró 8 donas.

¿Cuánto gastó? \_\_\_\_\_

Explica tu respuesta: \_\_\_\_\_

---

---

---

---

---

---

4. - Colorea todos los lápices sabiendo que:

- El lápiz más largo es azul
- El más corto es verde.
- El más lejano del azul es rojo
- El amarillo está entre el rojo y el negro

