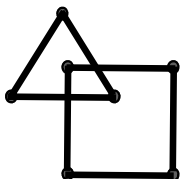





5.– Pedro se toma un jugo y come una empanada. Paga con un billete de 5 Bs.F. ¿Cuánto le deben dar de vuelto?

| PRECIOS | |
|------------|-------|
| Empanadas: | 2.000 |
| Jugo: | 1.000 |
| Arepa: | 3.000 |

6.– Observa las figuras que se forman al unirse los puntos.



Une los puntos en los siguientes recuadros formando las mismas figuras que en la primera:



OLIMPIADA RECREATIVA DE MATEMÁTICA SEGUNDO GRADO OLIMPIADAS INFANTILES DE BARUTA



Mis Datos:

Nombres y Apellidos

Edad

Sección:

colegio

2008

1.- Observa la cara con dos bocas, cuatro ojos y tres narices. Si tienes otra cara igual a esta:

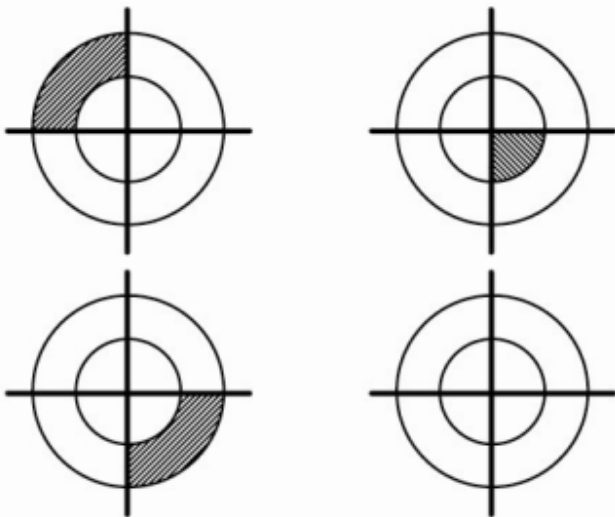


¿Cuántas bocas hay en total?

¿Cuántos ojos hay en total?

¿Cuántas narices hay en total?

2.- Observa las figuras y pinta la última figura según el patrón.



3.- Utiliza los números 3, 8 y 6 para completar la historia:

“Juana compró un paquete de medias. El paquete tiene _____ pares. Juana compró _____

medias en total. Ella gastó _____ bolívares”

4.- Sonia es más alta que Alejandra pero más baja que Carolina. Alejandra es más alta que Ana.

Ponle el nombre a cada una: