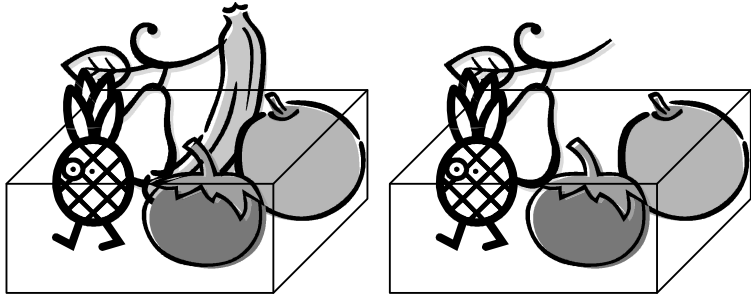


3.- Dibuja lo que falta en la segunda caja:



OLIMPIADA RECREATIVA DE MATEMÁTICA

PRIMER GRADO

Datos del Alumno :

Nombres

Apellidos

Edad:

Sexo:

 F M


Colegio:

Ciudad:


Estado:

2006

1. Completa la siguiente serie:



2.- Observa



Dibuja la figura que está en el centro: _____

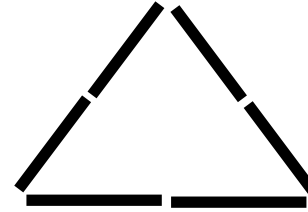
Dibuja la figura que está a la izquierda: _____

Dibuja la figura que está debajo del corazón: _____

Dibuja la figura que está a la derecha del corazón: _____

Dibuja la figura que está arriba: _____

3.- En la figura, dibuja tres palitos dentro de ella para formar otros cuatro triángulos:



4.- María tiene 24 muñecas y quiere numerarlas. ¿Cuántas veces utiliza el dígito 2 en la numeración?