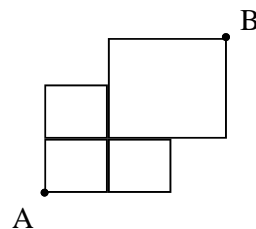
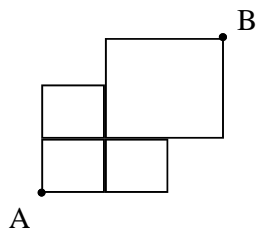
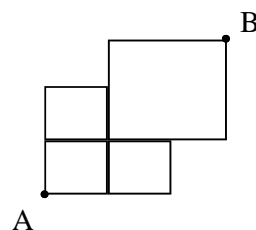
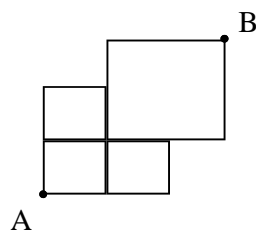
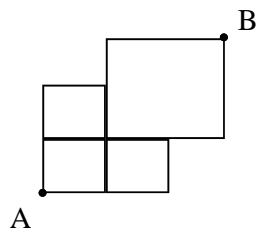
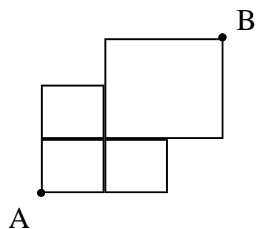


3.- María quiere ir del punto A al punto B, a lo largo de las líneas en negro. Sólo puede caminar hacia arriba o hacia la derecha. Señala en cada figura, con un color o repasando, los diferentes caminos que puede tomar María.



OLIMPIADA RECREATIVA DE MATEMÁTICA

PRUEBA FINAL

SEGUNDO GRADO

Datos del Alumno:

Nombres

Apellidos

Edad

Sexo

 F M

Colegio:

Ciudad:

Estado:

2006

1.- En la siguiente adición se sustituyeron algunos números por letras. Determina los valores que tiene cada una de las letras.

$$\begin{array}{r}
 C \ 8 \ M \ A \\
 + \quad C \ A \ 1 \\
 \hline
 A \ L \ 7 \ 7 \ 2
 \end{array}$$

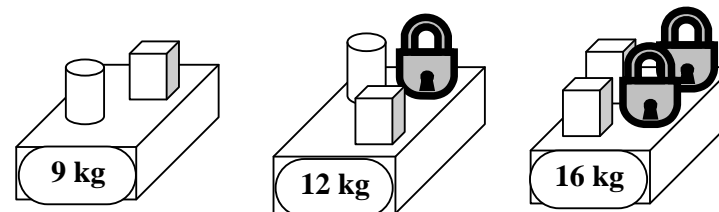
A vale _____


C vale _____


M vale _____

L vale _____

2.- Cuerpos diferentes tienen pesos diferentes. Cuerpos iguales tienen igual peso. Observa los pesos de los cuerpos. ¿Cuánto pesa cada cuerpo? Explica



 Pesa _____

 Pesa _____

 Pesa _____