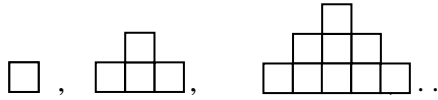


PRUEBA REGIONAL

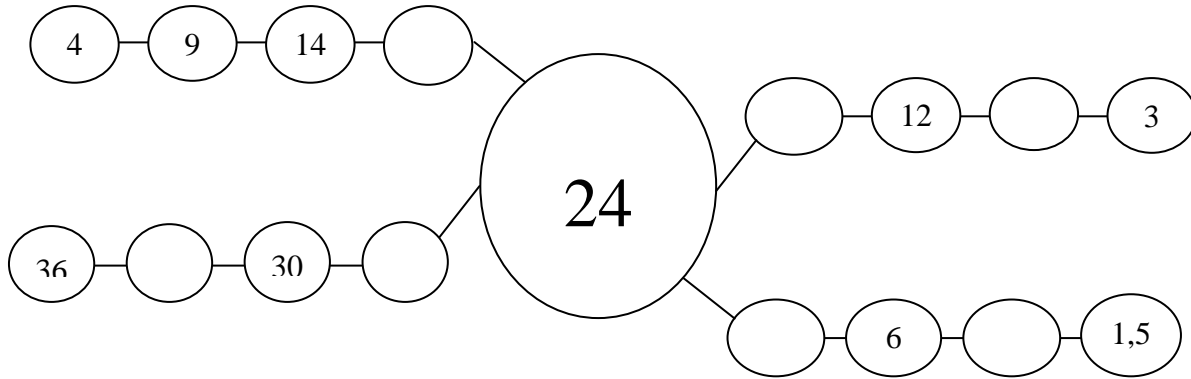
CUARTO GRADO

1.- Observa la secuencia de figuras formadas con cuadrados:

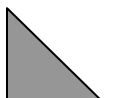


Dibuja la quinta figura y escribe cuántos cuadrados se necesitaron para formarla.

2.- Hay cuatro cadenas de números que comienzan o terminan en 24, según una regla de formación. Escribe los números que faltan en cada cadena. Explica cómo sabes que esos son los números.

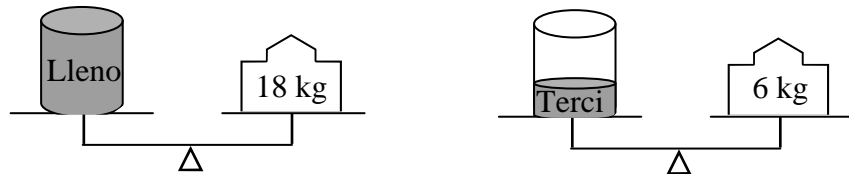


3.- En una librería se vende una caja de marcadores en Bs. 2000 y dos libros de cuentos en Bs. 5000. La señora Luisa compra ocho libros de cuentos y varios marcadores. Paga con dos billetes de Bs. 20000 y le dan Bs. 4000 de vuelto. ¿Cuántos marcadores compró la señora Luisa? Explica cómo obtuviste la respuesta

4.-  es la cuarta parte de una figura completa. Dibuja la figura completa.

Encuentra más de cuatro respuestas.

5.- Observa las balanzas:



¿Cuánto pesa el envase vacío? ¿Cómo lo sabes? Explica el procedimiento para obtener la respuesta.

6.- María construyó el bloque de la derecha utilizando cubos rojos y cubos azules: todos del mismo tamaño. La superficie exterior del bloque es completamente roja, pero todos los cubos interiores son azules.

¿Cómo se puede averiguar cuántos cubos azules utilizó María?
¿Cuántos cubos utilizó en total?

